

4.

SOSYAL BİLGİLER

Bilimsel bir araştırma yapacağımız zaman ilk olarak neyin yapılması gerekir?

A) Kaynak taramasının yapılması

B) Kaynakçanın belirtilmesi

C) Konunun belirlenmesi

D) Rapor hazırlanması

5.

DİN KÜLTÜRÜ VE AHLAK BİLGİSİ

Peygamberimiz hangi tarihte vefat etmiştir?

A) 20 Haziran 630

B) 8 Haziran 632

C) 8 Mayıs 628

D) 8 Mayıs 622

6.

DİN KÜLTÜRÜ VE AHLAK BİLGİSİ

İlk hicret nereye olmuştur?

A) Habeşistan

B) Medine

C) Bağdat

D) Taif

7.

İNGİLİZCE

Find the FALSE matching.



bookshelf



dictionary



e-book



novel

A) bookshelf

B) dictionary

C) e-book

D) novel

8.

İNGİLİZCE



The lamp is - - - - the armchair.

Which one is correct according to the picture?

- A) under B) on
C) near D) between

9.

BEDEN EĞİTİMİ VE SPOR

Kedi ve köpek gibi hayvan ısırıklarında ilkyardım nasıl olmalıdır?

- A) Turnike uygulanır. B) Sıcak uygulaması yapılır.
C) Hemen sabunlu suyla yıkanır. D) Krem sürülür.

10.

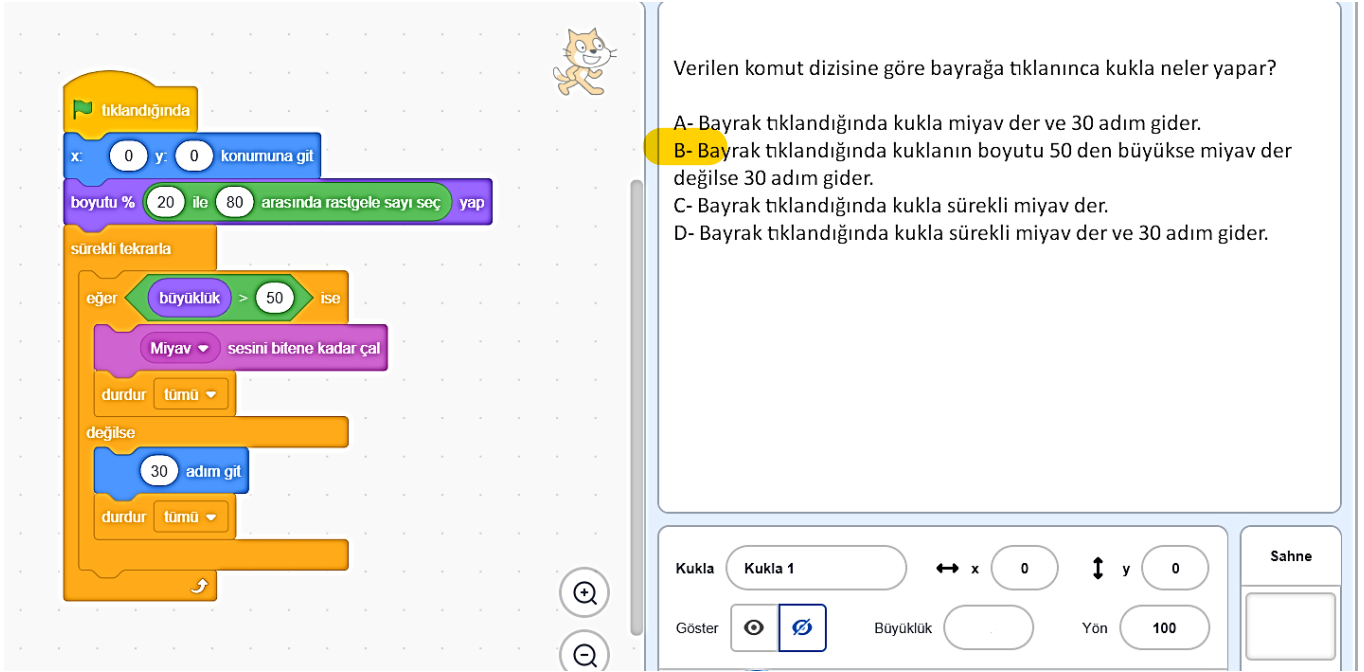
MÜZİK

Bir hecenin, birden fazla nota ile seslendirilmesine yarayan işaretin adı nedir?

- A) Uzatma noktası B) Uzatma bağı C) Hece bağı D) Heceleme

11.

BİLİŞİM TEKNOLOJİLERİ VEYAZILIM



The image shows a Scratch script and its corresponding interface. The script starts with a 'when clicked' event, followed by 'set x to 0, set y to 0, go to location', 'choose a random number between 20 and 80', and a 'repeat' loop. Inside the loop, there is an 'if' condition: 'if size > 50, then play meow sound until finished, then stop all sounds'. If the condition is false, it goes to 'go 30 steps' and then 'stop all sounds'. The interface shows a puppet named 'Kukla 1' with x and y coordinates set to 0, a 'Show' button, a 'Size' field, a 'Direction' field set to 100, and a 'Stage' area.

Verilen komut dizisine göre bayrağa tıklanınca kukla neler yapar?

A- Bayrak tıkladığında kukla miyav der ve 30 adım gider.
B- Bayrak tıkladığında kuklanın boyutu 50 den büyükse miyav der değilse 30 adım gider.
C- Bayrak tıkladığında kukla sürekli miyav der.
D- Bayrak tıkladığında kukla sürekli miyav der ve 30 adım gider.

12.

ŞİFRE

Aşağıdakilerden hangisi bu haftanın şifresidir?

A) İyilik demek kimseye kötülüğü dokunmamak değil, kötülük yapacak cevheri içinde taşımamak demektir.

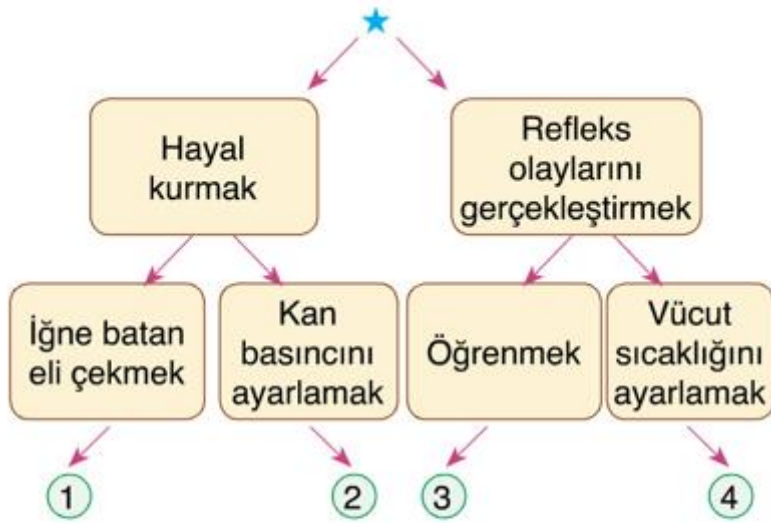
B) Kullanmadıktan sonra göğsümüzü dolduran hisler ve kafamızda kımıldayan düşünceler neye yaradı.

C) Yüksek insan dışına değil, içine kıymet verendir.

D) Başlamak için en uygun zamanı beklersen hiç başlamayabilirsin; şimdi başla, şu anda bulunduğun yerden, elindekilerle başla.

13.

FEN BİLİMLERİ



Barış, ★ sembolünden başlayarak insan vücudunda gerçekleşen olaylardan beynin denetlediklerini takip ederek çıkışa ulaşmak istiyor.

Barış, hata yapmadan ilerlediğinde numaralandırılmış çıkışlardan hangisine ulaşır?

- A) 1 **B) 2** C) 3 D) 4

14.

FEN BİLİMLERİ

- I. İç organların çalışmasını düzenlemek
- II. Refleks davranışlarımızı gerçekleştirmek
- III. Dengemizi sağlamak

Yukarıda verilen olaylardan hangileri omurilik soğanı tarafından gerçekleştirilir?

- A) Yalnız I** B) Yalnız II
C) I ve II D) II ve III

15.

MATEMATİK

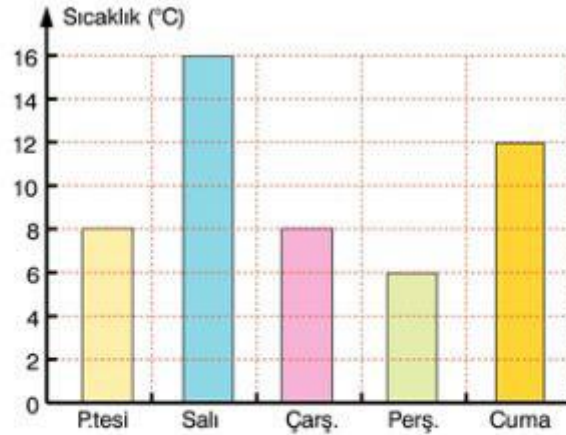


Yukarıdaki şekilde görülen iki sporcunun boy ortalaması 130 cm olduğuna göre, uzunluğu verilmemiş olan sporcu kaç cm boyundadır?

- A) 130 B) 110 C) 90 D) 70

16.

MATEMATİK



Yukarıdaki grafikte bir ilimizin 5 günlük sıcaklık değerleri görülmektedir.

Buna göre, bu verilerin açıklığı kaçtır?

- A) 10 B) 11 C) 12 D) 13