

## 5. SINIF BİLGİ YARIŞMASI 2.DÖNEM 7. HAFTA (30.04.2021)

1.

### TÜRKÇE

İtfaiye görevlileri merdivenle Cem'i ve kedisini kurtardılar. Cem, itfaiye merdiveninin ucundaki kutuya hayran kaldı. Onu lunaparktaki çarpışan arabalara benzetti. Ama bu, uçan bir arabaydı. Cem'in korkusu gitmişti. Uçan bir arabadan aşağıyı seyretmek çok güzeldi. Aşağıdaki kalabalığı gördü. Herkes kendisine bakıyordu.

**Bu metinle ilgili aşağıdakilerden hangisi söylenemez?**

- A) Olay yazısından alınmıştır.                      B) Üçüncü kişi ağzından anlatılmıştır.  
C) Zaman belli değildir.                              D) Kişileştirme yapılmıştır.

2.

### TÜRKÇE

Yabancı dillerden dilimize giren bazı sözcükler ünlüyle başlayan ek aldığı ya da "etmek, olmak" gibi fiillerle birleştiğinde sözcüğün sonundaki ünsüzden bir tane daha türer. Bu ses olayına "ünsüz türemesi" denir. Örneğin "hat" sözcüğü "ı" ekini alınca "hattı" şeklinde yazılır. Burada "t" ünsüzü türemiştir.

**Aşağıdaki altı çizili sözcüklerden hangisi bu açıklamaya örnek olamaz?**

- A) Yapılan bütün iş tekliflerini reddetti.  
B) Affına sığınarak bir şey sormak istiyorum.  
C) Bankanın önünde en az elli kişi vardı.  
D) Gurbet hissini yaşamayan anlayamaz

3.

### SOSYAL BİLGİLER

Aşağıdakilerden hangisi buluş yapanların ve bilim insanlarının ortak özelliklerinden değildir?

- A) Sorgulayıcı                      B) Gözlemci                      C) Aceleci                      D) Araştırmacı

4.

### SOSYAL BİLGİLER

Aşağıdakilerden hangisi sivil toplum kuruluşlarının faaliyet alanlarından biri değildir?

- A) Hayvanların korunması                      B) İhtiyaç sahiplerine yardım  
C) Eğitim faaliyetlerinin desteklenmesi                      D) Suçluların cezalandırılması

5.

### DİN KÜLTÜRÜ VE AHLAK BİLGİSİ

Aşağıdakilerden hangisi caminin dışındaki bölümlerinden biri **değildir**?

A) Minare

B) Kubbe

C) Minber

D) Şadırvan

6.

### DİN KÜLTÜRÜ VE AHLAK BİLGİSİ

Hz. Davut peygamberin oğludur. Çeşitli hayvanlarla konuşma yeteneği verilmiştir. Sözü edilen peygamber aşağıdakilerden hangisidir?

A) Hz. Yusuf

B) Hz. Süleyman

C) Hz. Zekeriya

D) Hz. Musa

7.

### İNGİLİZCE


Sally and Bob ..... feeding the ducks. They ..... giving seeds to them now.



A) love / am  
B) likes / are  
C) loves / is  
D) like / are

8.

### İNGİLİZCE



A) give you eggs  
B) have wings  
C) help people  
D) live in water

9.

## BEDEN EĞİTİMİ VE SPOR

Aşağıdakilerden hangisinde İlk yardım önceliği vardır?

A) Yaşlıların

B) Bebeklerin

C) Solunumu durmuş olanların

D) Hamilelerin

10.

## MÜZİK

Aşağıda verilen nota adı-nota yeri eşleştirmelerinden hangisi **yanlıştır**?

A) Fa-Üçüncü aralık

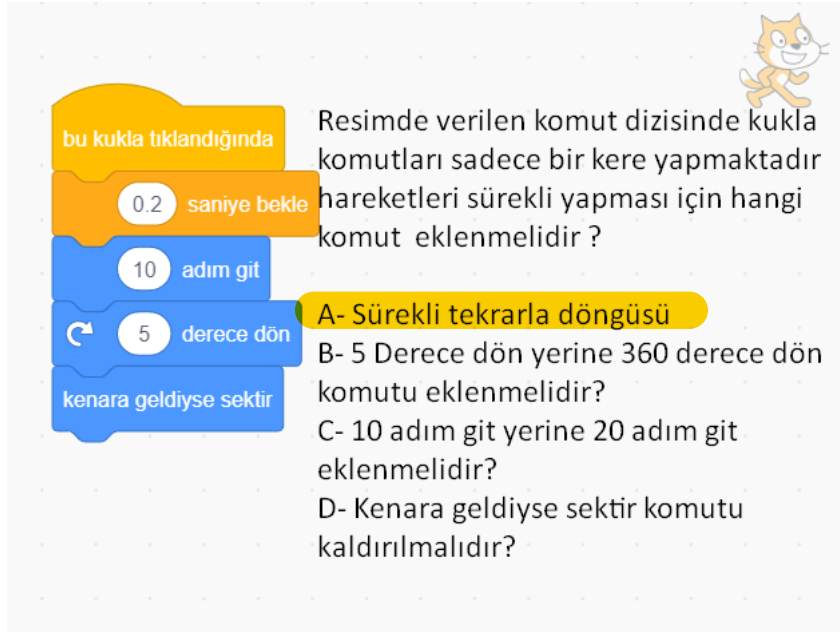
B) Sol-İkinci çizgi

C) Mi-Birinci çizgi

D) La-İkinci aralık

11.

## BİLİŞİM TEKNOLOJİLERİ VE YAZILIM



The image shows a Scratch code editor with a cat character in the top right corner. The code blocks are: a yellow 'when clicked' block, an orange 'wait 0.2 seconds' block, a blue 'move 10 steps' block, a blue 'turn 5 degrees' block, and a blue 'when edge is reached' block. To the right of the code is a question in Turkish: 'Resimde verilen komut dizisinde kukla hareketleri sürekli yapması için hangi komut eklenmelidir?' (In the command sequence given in the image, which command should be added for the puppet to perform the movements continuously?). Below the question are four options: A- Sürekli tekrarlar döngüsü (Continuous repetition loop), B- 5 Derece dön yerine 360 derece dön komutu eklenmelidir (Add a turn 360 degrees instead of 5 degrees command), C- 10 adım git yerine 20 adım git eklenmelidir (Add a move 20 steps instead of 10 steps command), and D- Kenara geldiye sektir komutu kaldırılmalıdır (Remove the when edge is reached command).

12.

## ŞİFRE

Aşağıdakilerden hangisi bu haftanın şifresidir?

A) İyilik demek kimseye kötülüğü dokunmamak değil, kötülük yapacak cevheri içinde taşımamak demektir.

B) Kullanmadıktan sonra göğsümüzü dolduran hisler ve kafamızda kımıldayan düşünceler neye yarardı.

C) Yüksek insan dışına değil, içine kıymet verendir.

D) Başlamak için en uygun zamanı beklersen hiç başlamayabilirsin; şimdi başla, şu anda bulunduğun yerden, elindekilerle başla.

13.

### FEN BİLİMLERİ

Tabloda maddeler ışığı geçirme özelliğine göre işaretlenmiştir.

Maddeler	▲	♥	★
Tül perde	✓		
Hava			✓
Dünya		✓	

Buna göre ▲, ♥ ve ★ sembolleriyle gösterilen yerlere aşağıdakilerden hangisi sırasıyla gelmelidir?

- A) Opak – Yarı saydam – Saydam
- B) Yarı saydam – Saydam – Opak
- C) Saydam – Opak – Yarı saydam
- D) Yarı saydam – Opak – Saydam

14.

### FEN BİLİMLERİ

İlayda, maddelerin özellikleri ile ilgili konuşan öğrencilerin isimlerini özelliklerin yanına aşağıdaki gibi yazıyor.

**Ece** : Işığın çok büyük bir kısmını geçirir.

**Ata** : Arkasındaki cisim bulanık görünür.

**Ali** : Tuğla ve karton bu maddelere örnek verilebilir.

Opak .....(Ali)..... Yarı saydam ..(Ece)..  
Saydam ....(Ata).....

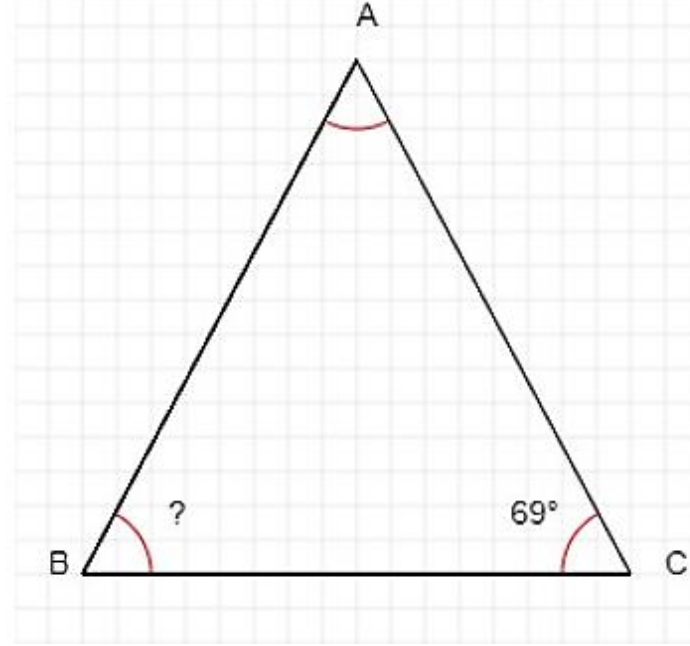
Buna göre İlayda'nın bilgisi için aşağıdakilerden hangisi söylenebilir?

- A) Opak maddelere örnek verebiliyor.
- B) Saydam maddelerin özelliklerini biliyor.
- C) Yarı saydam maddelerin özelliklerini biliyor.
- D) Saydam maddelere örnek veremiyor.

15.

MATEMATİK

ABC ikizkenar üçgeninde  $|AB| = |AC|$  ve  $m(\hat{C}) = 69^\circ$  olduğuna göre  $m(\hat{B})$  kaç derecedir?



A) 55

**B) 69**

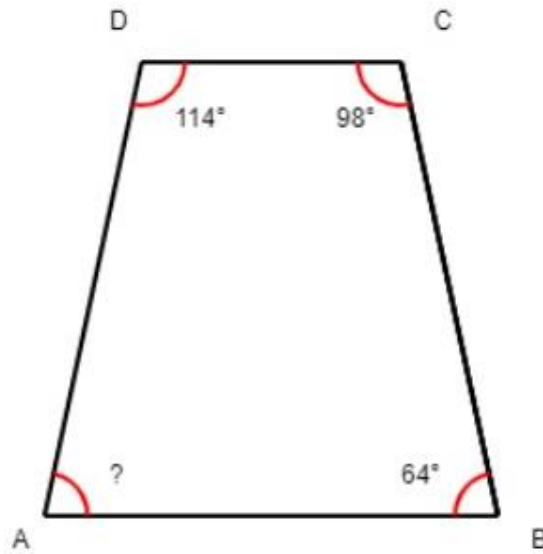
C) 83

D) 87

16.

MATEMATİK

ABCD dörtgeninde  $m(\hat{B}) = 64^\circ$ ,  $m(\hat{C}) = 98^\circ$ ,  $m(\hat{D}) = 114^\circ$  olduğuna göre  $m(\hat{A})$  kaç derecedir?



**A) 84**

B) 86

C) 94

D) 100