

5. SINIF BİLGİ YARIŞMASI 2.DÖNEM 5. HAFTA (09.04.2021)

1.

TÜRKÇE

- 1.Bu sayede kuşları görebildim.
2. Hava açık olmasına rağmen kuşları göremedim.
3. Eve döndüğümde hâlâ, bugün görmüş olduğum kuşları hayal ediyordum.
4. Ablam ve arkadaşlarıyla göle, kuş gözlemlemeye gittim.
5. Ablam bana bir dürbün verdi.

Numaralandırılmış cümleler “olayların oluş sırasına göre” nasıl sıralanmalıdır?

- A) 1, 5, 4, 3, 2
B) 2, 1, 3, 4, 5
C) 4, 2, 5, 1, 3
D) 3, 2, 1, 5, 4

2.

TÜRKÇE

Aşağıdaki hangi seçenekte ses olayı ve kelime eşleştirmesinde yanlışlık vardır?

- A) Sevinci : Yumuşama
B) Ağaçta : Benzeşme
C) Şehre : Sesli Düşmesi
D) Türkçe : Yumuşama

3.

SOSYAL BİLGİLER

Yerel ve genel seçimlerde oy kullanmak için sandık başına giden bir kişi ya da sınıfta verdiği oyla sınıf başkanını seçen bir öğrenci aşağıdaki haklardan hangisini kullanmış olur?

- A) Sosyal güvenlik
B) Haberleşme
C) Toplantı
D) Katılım

4.

SOSYAL BİLGİLER

- İl, ilçe veya beldelerde görev yaparım. Yol, su, kanalizasyon hizmetleri gibi toplumun önemli ihtiyaçlarını karşılarım.

- Yerel seçimlerde halkın oylarıyla seçilirim.

Kendisi hakkında bilgi veren görevli aşağıdakilerden hangisidir?

- A) Belediye başkanı
B) Kaymakam
C) Muhtar
D) Vali

5.

DİN KÜLTÜRÜ VE AHLAK BİLGİSİ

Ramazan'da iki minare arasında asılan ışıklı yazılara ne denir?

- A) Mukabele **B) Mahya** C) Nihale D) Teravih

6.

DİN KÜLTÜRÜ VE AHLAK BİLGİSİ

Hz. Muhammed'in güvenilirliği sebebiyle kendisine verilen unvan aşağıdakilerde hangisidir?

- A) Peygamber Muhammed B) Allah'ın Resülü
C) Muhammed'ül Emin D) Son Peygamber

7.

İNGİLİZCE



What's the month between November and January?

- A) October **B) December**
 C) February D) September

8.

İNGİLİZCE

What day is it?

It's the day after Wednesday.

- A) Thursday** B) Friday
 C) Tuesday D) Monday

9.

BEDEN EĞİTİMİ VE SPOR

İlk yardım için aşağıdakilerden hangisi **yanlıştır**?

- A) Ambulans gelene kadar yapılır
- B) Hayatın kurtarılması ya da durumun kötüleşmesini engellemek amacı ile yapılır
- C) Gerekir ise ilaç kullanılır**
- D) Herhangi bir kaza ya da yaşamı tehlikeye düşüren durumlarda yapılır

10.

MÜZİK

Müzik eserlerini oluşturan en küçük ve süre bakımından birbirine eşit bölümlerin her birine ne ad verilir?

- A) Ölçü**
- B) Vuruş
- C) Sus
- D) Nota

11.

BİLİŞİM TEKNOLOJİLERİ VE YAZILIM



Scratch karakteri olan kedinin sol yandaki gibi kostüm1 ve kostüm2 olmak üzere iki kostümü vardır. Kedinin devamlı hareket edip yürüyormuş gibi gözükmesi için yukarıdaki kodların ? işareti olan bölüme hangi kod gelmelidir? 10 puan

- A) **rengine değişiyor mu?**
- B) **x'i 10 değiştir**
- C) sonraki kostüm**
- D) **kenara geldiğinde geri dön**

12.

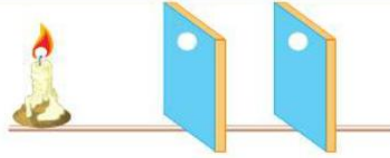
ŞİFRE

Aşağıdakilerden hangisi bu haftanın şifresidir?

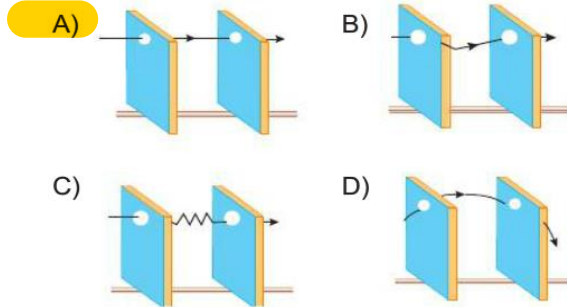
- A) Eğer doğru kullanırsan sözcükler X ışınlarına dönüşebilirler, her şeyi delip geçerler. Okursun ve delinirsin.
- B) Düşünmeyi bilmeyen insan her zaman başkalarının kölesi olur.
- C) Bütün günler birbirine benzediği zaman insanlar, güneş gökyüzünde hareket ettikçe, hayatlarında karşılarına çıkan iyi şeylerin farkına varamaz olurlar.
- D) Başlamak için en uygun zamanı beklersen hiç başlamayabilirsin; şimdi başla, şu anda bulunduğun yerden, elindekilerle başla.

13.

FEN BİLİMLERİ



Şekildeki düzenekte ışığın yayılışı aşağıdakilerden hangisinde doğru çizilmiştir?



14.

FEN BİLİMLERİ

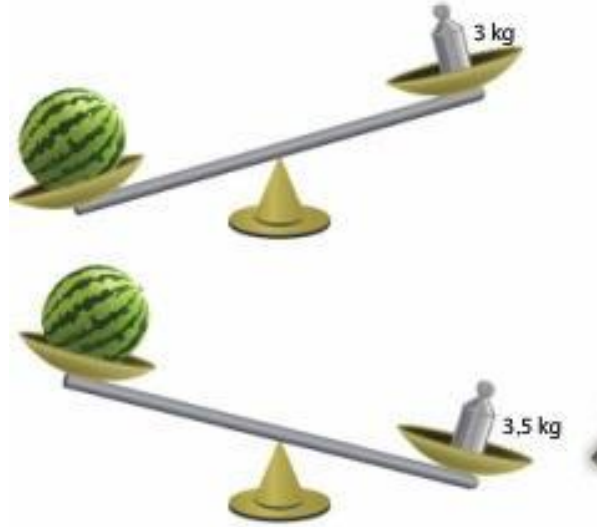


Elif, resimdeki araç ve gereçleri kullanarak yapacağı etkinliğin sonucunda aşağıdakilerden hangisini öğrenir?

- A) Işık, her yöne yayılır.
- B) Işın, çizgiyle gösterilir.
- C) Işık bir enerji türüdür.
- D) Işık doğrusal olarak yayılır.

15.

MATEMATİK



Yukarıda verilen eşit kollu terazilere göre karpuzun kütlesi aşağıdakilerden hangisi olabilir?

- A) 2,85 kg B) 2,95 kg
C) 3,25 kg D) 3,55 kg

16.

MATEMATİK

- 1- İki ucu sınırsızdır.
2- Uzunluğu hesaplanamaz.

Yukarıda özellikleri verilen geometrik şekil aşağıdakilerden hangisidir?

- A) Doğru Parçası
B) Doğru
C) Işın
D) Nokta