

8. SINIF BİLGİ YARIŞMASI 2.DÖNEM 4. HAFTA (12.03.2021)

1.

TÜRKÇE

Yazar, çocukluk ve ilk gençlik yıllarını yoksulluk içinde geçirmesine rağmen azim ve iradesi sayesinde her türlü engeli aşmak suretiyle Türk ilim ve kültür hayatının kendisiyle daima iftihar ettiği örnek bir ilim insanı olmuştur.

Bu cümledeki numaralanmış sözcüklerin anlamca karşılıkları aşağıdakilerin hangisinde verilmiştir?

I	II	III
A) direnme gücü	amacıyla	gururlanmak
B) kararlılık	yoluyla	kıvanç duymak
C) gayret	isteğiyle	saygı göstermek
D) cesaret	şartıyla	iltifat etmek

2.

TÜRKÇE

Avustralya’da yaşayan Rebecca isimli bir kadın, dünyada sadece 80 kişide görülen “süper otobiyografik hafıza”ya sahip. Rebecca, bugüne kadar yaşadığı en önemsiz olayları bile gayet net hatırlayabiliyor. Çocukken okuduğu kitapların hemen hepsini cümlesi cümlesine ezbere anlatabiliyor. Çoğu insanın gıpta edebileceği bu yetenek, sonradan olumsuz bir duruma dönüşebiliyor. Yeni şeyler öğrenme konusunda zaman zaman güçlükler çeken Rebecca, hatıralarıyla baş etmekte zorlanıyor. Bu özel durum, yeni öğrenmelere yer açan unutmamanın ne kadar güzel olduğunu gösteriyor.

Bu medya metninin yazılış amacı aşağıdakilerden hangisidir?

- A) Olay yorumlama – Bilgi aktarma**
- B) Bilgi aktarma – İkna etme
- C) Kültür aktarma – Olay yorumlama
- D) İkna etme – Kültür aktarma

3.

T.C. İNKILAP TARİHİ VE ATATÜRKÇÜLÜK

Lozan Barış Antlaşması'nda Yunanistan savaş suçu işlediğini kabul ederek neresini Türkiye'ye savaş tazminatı olarak vermiştir?

A) Selanik

B) Gelibolu

C) İstanbul

D) Karaağaç

4.

T.C. İNKILAP TARİHİ VE ATATÜRKÇÜLÜK

İtilaf Devletleri Millî Mücadele yıllarında düzenlenen uluslararası konferanslarda Türk tarafını bölmeyi düşünmüşlerdir.

Aşağıdakilerden hangisi İtilaf Devletlerinin bu düşüncesinin kaynağını **yok etmiştir?**

A) Saltanatın kaldırılması

B) İstiklal Marşı'nın kabulü

C) Sakarya Muharebesi'nin kazanılması

D) TBMM'nin açılması

5.

DİN KÜLTÜRÜ VE AHLAK BİLGİSİ

Kelime anlamı yardım olan gösteriş için ibadet etmenin yerildiği sure hangisidir?

A) Kafirun

B) Maun

C) Ayetel Kursi

D) Asr

6.

DİN KÜLTÜRÜ VE AHLAK BİLGİSİ

Aşağıdakilerden hangisine zekât verilebilir?

A) Kardeş

B) Dede

C) Torun

D) Nine

7.

İNGİLİZCE



Jack likes water sports. is his favourite one.

- A) Scuba diving B) Kayaking
 C) Windsurfing D) Rafting

8.

İNGİLİZCE

When you go rock climbing, you need strong

- A) wings B) rafts
 C) paddles D) ropes

9.

BEDEN EĞİTİMİ VE SPOR

Amerikan futbolunda Touch Down kaç puandır?

- A) 3 B) 4 C) 5 **D) 6**

10.

MÜZİK

Türk Sanat Müziğinde aynı makamda ve değişik türlerdeki müzik eserlerinin çalınıp söylenmesine denir.

Boş bırakılan yere aşağıdakilerden hangisi gelmelidir?

A) Usul

B) Fasil

C) Şarkı

D) Saz Semaisi

11.

TEKNOLOJİ VE TASARI

İnsanların her türlü ihtiyacını karşılamaya dayalı yol, köprü, bina gibi bayındırlık; tarım, beslenme gibi gıda; fizik, kimya, biyoloji, elektrik, elektronik gibi fen; uçak, otomobil, motor, iş makineleri gibi teknik ve sosyal alanlarda uzmanlaşmış, belli bir eğitim görmüş kimsedir.

Türk Dil Kurumu'na göre yukarıda tanımı verilmiş meslek aşağıdakilerden hangisidir?

A) Aşçı

B) Mühendis

C) Gazeteci

D) Terzi

12.

ŞİFRE

Aşağıdakilerden hangisi bu haftanın şifresidir?

A) Her zaman şimdide yaşamayı başarabilirsen mutlu bir insan olursun.

B) Yüreğin neredeyse hazinen de oradadır.

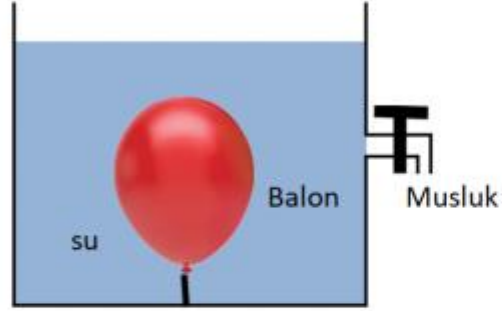
C) Bütün günler birbirine benzediği zaman insanlar, güneş gökyüzünde hareket ettikçe, hayatlarında karşılarına çıkan iyi şeylerin farkına varamaz olurlar.

D) Bir düşün gerçekleşmesini bir tek şey olanaksız kılar: başarısızlığa uğrama korkusu.

13.

FEN BİLİMLERİ

Verilen şekilde suyun içine konan balonun bir miktar küçüldüğü görülmüştür.



Balonun daha fazla küçülmesi için aşağıdakilerden hangisi yapılmalıdır? ($d_{\text{Etil alkol}} < d_{\text{Su}}$)

- A) Bir miktar suyu almak
- B) Musluğu açmak
- C) Suyu tuz karıştırmak
- D) Su yerine etil alkol koymak

14.

FEN BİLİMLERİ

Verilen görselde haşlanmış ve kabukları soyulmuş yumurtanın şişeye girmediği, küçük bir kağıt parçası yakılıp şişenin içine atıldığında ve kağıdın yanması bittiğinde yumurtanın hızla şişenin içine girdiği görülmüştür.



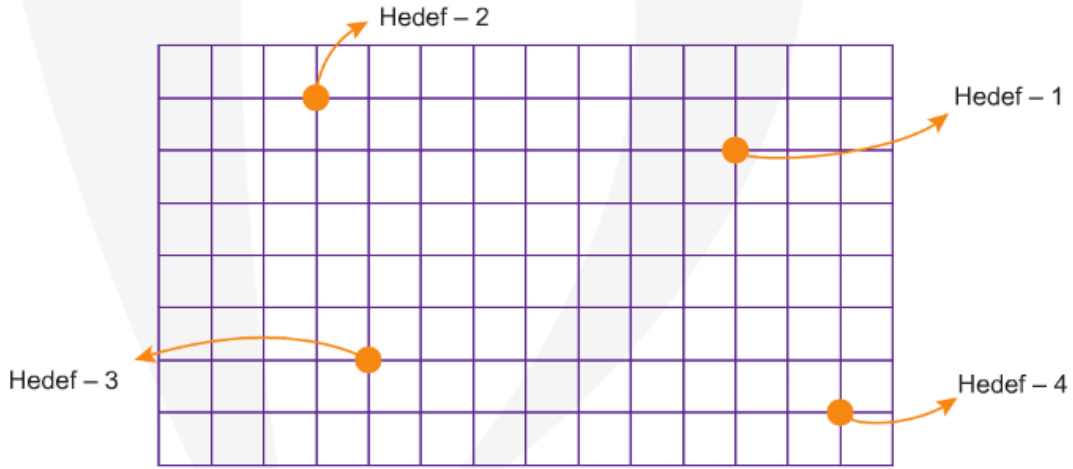
Yukarıda verilen bilgilere göre yumurtanın şişeye girmesini açıklayan en iyi ifade aşağıdakilerden hangisidir?


- A) Kağıdın yanması ile şişenin genişmesi
- B) Kağıdın yanması ile yumurtanın yumuşaması
- C) Kağıdın yanması sonucu şişedeki oksijenin bitmesi
- D) Kağıdın yanması ile şişenin içindeki basıncın atmosfer basıncından küçük olması

15.

MATEMATİK

Yeni millî teknoloji ürünümüz olan insansız hava araçlarımız tatbikat için havalanarak görev bölgesini taramıştır. Daha sonra hedefleri aşağıdaki gibi belirleyerek komuta merkezine göndermiştir.



Komuta merkezi Hedef-1 (4, 1) noktasını vur emri verdiği göre diğer hedeflerin koordinatlarından biri aşağıdakilerden hangisi olamaz? 

A) (6, -4)

B) (-2, -3)

C) (-4, 2)

D) (-3, -3)

16.

MATEMATİK

- I. Apsisleri sıfır olan noktalar y eksenindedir.
- II. Ordinatları sıfır olan noktalar x eksenindedir.
- III. $A(1, -1)$ noktası II. bölgede bulunur.
- IV. III. bölgeye ait noktaların koordinatları negatiftir.

Yukarıdaki ifadelerden hangileri doğrudur?

A. I ve II

B. I ve III

C. I ve IV

D. II ve IV