

5. SINIF BİLGİ YARIŞMASI 2.DÖNEM 4. HAFTA (12.03.2021)

1.

TÜRKÇE

1. sağlığa
2. benzer
3. kaybedince
4. değeri
5. anlaşır
6. vatan

Numaralandırılmış sözcüklerden anlamlı ve kurallı bir cümle oluşturulmak istenirse doğru sıralama nasıl olmalıdır?

- A) 6 - 2 - 1 - 3 - 4 - 5
- B) 6 - 2 - 1 - 4 - 3 - 5
- C) 6 - 1 - 2 - 4 - 5 - 3
- D) 6 - 1 - 2 - 3 - 4 - 5**

2.

TÜRKÇE

Yaz ayların içimiz yandığında buz gibi asitli içecekler tercih ederiz. İnsan serinlemek için soğuk bir şeyler içme ihtiyacı duyuyor kavurucu sıcaklarda. Fakat asitli içeceklerin zararları konusunda dikkat edilmesi gereken noktalar vardır. Bu içecekler sizi serinlettiği gibi sağlığınıza bir o kadar zarar vermektedir. Asitli içecekler; diş çürüğüne, aşırı kiloya ve bazı kalp hastalıklarına yol açabilmektedir.

Paragrafta asıl anlatılmak istenen nedir?

- A) Asitli içecekleri arada sırada tüketebiliriz.
- B) Asitli içecekler sağlığımızı olumsuz etkilemektedir.**
- C) Asitli içecekler serinlemek için içilir.
- D) Asitli içecekler yerine süt içmeliyiz

3.

SOSYAL BİLGİLER

Bilimsel bilgiye ulaşmak için sistematik olarak çalışan kişilere "bilim insanı" denir. Bilim insanlarında olması gereken bazı özellikler vardır.

Aşağıdakilerden hangisi bilim insanlarında olması gereken özelliklerden **değildir**?

A) İsim-ün yapma gayreti göstermek

B) Yeniliklere açık olmak

C) Risk almaktan korkmamak

D) Araştırmacı olmak

4.

SOSYAL BİLGİLER

Akdeniz ikliminin hâkim olduğu yerlerde yazlar sıcak ve kurak, kışlar ılıman ve yağışlıdır. Kış mevsiminin ılık geçmesine bağlı olarak seracılık faaliyetleri yoğun olarak yapılmaktadır. Yaz mevsimi sıcak geçtiği ve uzun süreli olduğu için yılda birden fazla ürün alınan yerler vardır.

Bu parçada iklimin aşağıdakilerden hangisine olan etkisinden söz edilmiştir?

A) Turizme

B) Sanayiye

C) Tarıma

D) Hayvancılığa

5.

DİN KÜLTÜRÜ VE AHLAK BİLGİSİ

Ramazan'da iki minare arasında asılan ışıklı yazılara ne denir?

A) Mukabele

B) Mahya

C) Nihale

D) Teravih

6.

DİN KÜLTÜRÜ VE AHLAK BİLGİSİ

Hz. Muhammed'in güvenilirliği sebebiyle kendisine verilen unvan aşağıdakilerde hangisidir?

A) Peygamber Muhammed

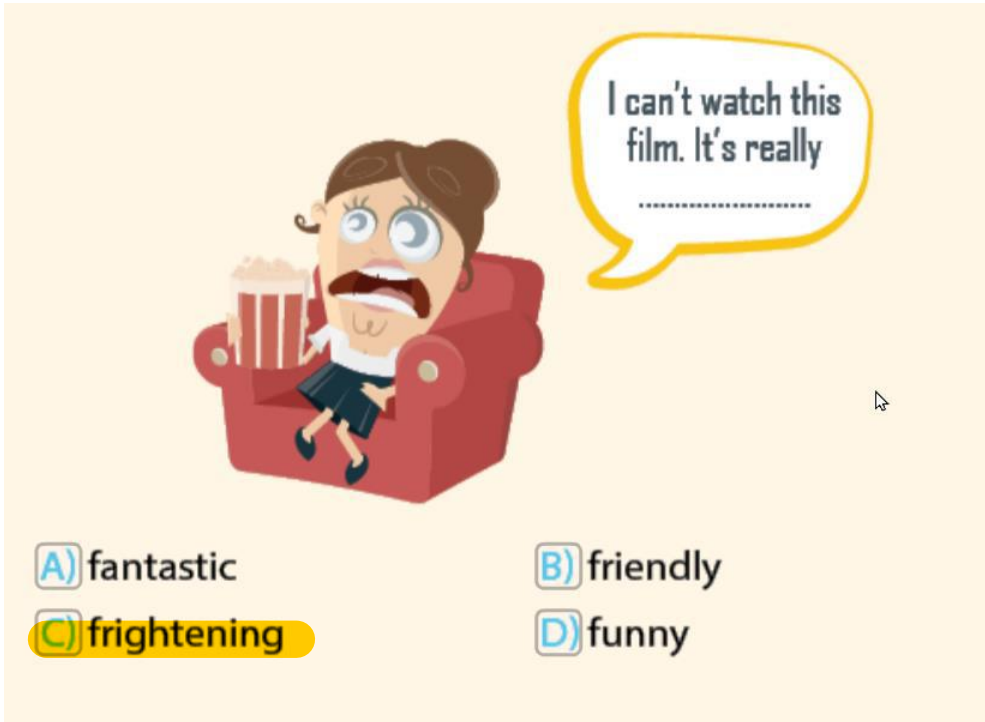
B) Allah'ın Resulü

C) Muhammed'ül Emin

D) Son Peygamber

7.

İNGİLİZCE



I can't watch this film. It's really

A) fantastic

B) friendly

C) frightening

D) funny

8.

İNGİLİZCE

Sue : There's an animation movie on this week.

.....

Daisy : Sounds interesting. I love animation movies.

- A) What's on at the cinema this week?
- B) Let's go to the cinema!
- C) Do you like watching movies?
- D) What do you think of animation movies?

9.

BEDEN EĞİTİMİ VE SPOR

Aşağıdakilerden hangisini yapmak Sağlıklı Yaşam için doğru bir davranış **değildir?**

- A) Paketli gıda tüketmek
- B) Düzenli spor yapmak
- C) Uyku düzenine dikkat etmek
- D) Günlük en az 1 -2 lt su içmek

10.

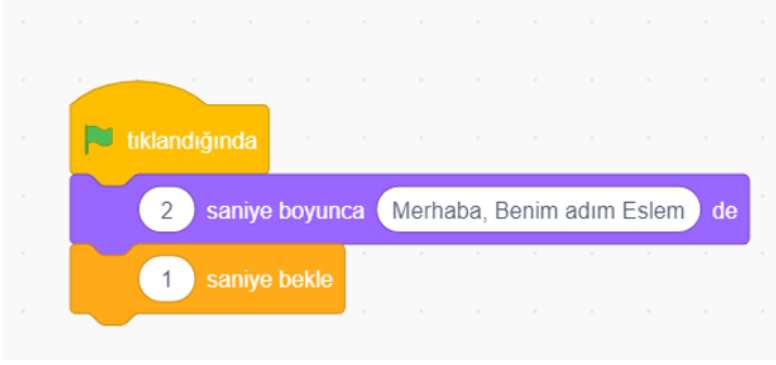
MÜZİK

Müzik eserlerinin hızı nerede belirtilir?

- A) 1. dizeğin sağ alt köşesinde
- B) Eserin en sonunda
- C) Başlığın yanında
- D) 1. dizeğin sol üst köşesinde

11.

BİLİŞİM TEKNOLOJİLERİ VE YAZILIM



Yanda verilen komut dizisinde hangi menüden kod kullanılmamıştır?

A-Olaylar

B-Kalem

C-Görünüm

D-Kontrol

12.

ŞİFRE

Aşağıdakilerden hangisi bu haftanın şifresidir?

A) Her zaman şimdide yaşamayı başarabilirsen mutlu bir insan olursun.

B) Yüreğin neredeyse hazinen de oradadır.

C) Bütün günler birbirine benzediği zaman insanlar, güneş gökyüzünde hareket ettikçe, hayatlarında karşılarına çıkan iyi şeylerin farkına varamaz olurlar.

D) Bir düşün gerçekleşmesini bir tek şey olanaksız kılar: başarısızlığa uğrama korkusu.

13.

FEN BİLİMLERİ

Bazı evlerde anneler bir kavanozun kapağını açmak için kavanozu ters çevirip sıcak suyun içine koyar. Kavanoz kapağı ısınınca genişler. Böylece kavanozun kapağı rahatça açılır.

Aşağıdaki örneklerden hangisi bu durum ile açıklanamaz?

A) Güneşte bekletilen gözlüklerde gözlük camının çerçevesinden düşmesi

B) Tatlının içine dökülen çikolatanın sertleşmesi

C) Yaz aylarında elektrik tellerinin sarkması

D) Isıtılan kürenin gravzant halkasından geçmemesi

14.

FEN BİLİMLERİ

Isınan maddenin hacminin artmasına genleşme denir. Soğuyan maddenin hacminin azalması, büzülmedir.

Ece, güneş gören evlerinin balkonuna plastik topunu bırakmış; topun gündüzleri şiştiğini, geceleri ise havasının indiğini gözlemlemiştir.

Ece'nin bu durumu yaşamasında;

- I. ısınan maddelerin genleşmesi,
- II. ısı kaybeden maddelerin büzülmesi,
- III. hâl değişimleri sırasında sıcaklığın sabit kalması

faktörlerinden hangilerinin etkili olduğu söylenebilir?

- A) Yalnız II. **B) I ve II.** C) II ve III. D) I, II ve III.

15.

MATEMATİK

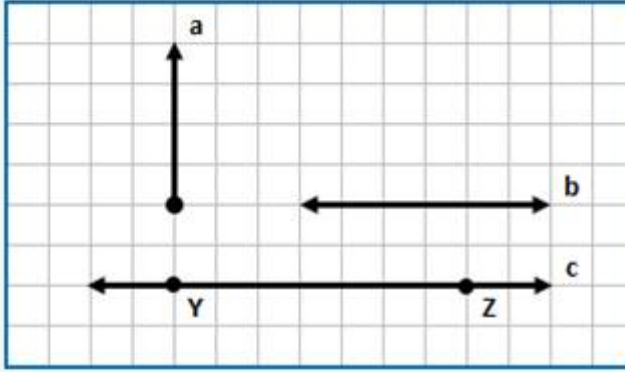


Yukarıdaki ışının sembol ile gösterimi aşağıdaki seçeneklerin hangisinde doğru olarak verilmiştir?

- A** [KS] B [KS] C <KS> D KS]

16.

MATEMATİK



Yukarıdaki şekle göre aşağıdakilerden hangisi doğrudur?

- A) $\underline{b} // \underline{c}$
- B) \underline{a} ışını ile \underline{c} doğrusu Y noktasında kesişir.
- C) \underline{c} doğrusunun sembolle gösterimi $[YZ]$ dir.
- D) $\underline{a} // \underline{b}$