

8. SINIF BİLGİ YARIŞMASI 2.DÖNEM 2. HAFTA (26.02.2021)

1.

TÜRKÇE

Sosyal medya devri bazı şirketler, kendi üyelerinin verilerini işleyip kullanabilmek için bazı özel programlar geliştiriyor. Kişilerle ilgili elde ettikleri verilerden yola çıkarak da onları etkilemeye çalışıyor. 2013'te açıklanan bir araştırmaya göre bu tür programlar, kullanıcılarının karakterini beğendiği içeriklerden yola çıkarak doğru tahmin edebiliyor. Şirketler bu tip programlar sayesinde sizi, sosyal medya hesabınızdaki 9 beğeninize bakarak bir iş arkadaşınız kadar, 65 beğeninize bakarak bir akrabanız kadar, 225 beğeninize bakarak ebeveyniniz kadar tanıyabiliyor. Beğendiğiniz içeriklere dayanarak yaşınızı, cinsiyetinizi, kültür seviyenizi, siyasi görüşlerinizi hatta o anki ruh hâlinizi sadece bir tıkla tespit edebiliyor.

Bu parçaya göre sosyal medya kullanımı,

- I. Kişilerin internet şifrelerinin ele geçirilmesi
- II. İnsanların, zamanlarını verimsiz kullanması
- III. İnsanları yönlendirebilecek haber ve yayınlara yer verilmesi
- IV. Kişiye özel reklamlar sunulması

durumlarından hangilerini ortaya çıkarabilir?

A) I ve II.

B) I ve III.

C) II ve IV.

D) III ve IV.

2.

TÜRKÇE

“Dedesinin elini öptü.” cümlesinde “öptü” sözcüğü *çekimli fiil*dir ve cümlenin yüklemidir. “Dedesinin öpülesi ellerini hatırladı.” cümlesinde ise “öpülesi” sözcüğü fiil anlamını korumakla birlikte kendisinden sonra gelen ismi nitelediği için *sıfat fiil*dir.

Buna göre aşağıdakilerin hangisinde sıfat-fiil kullanılmıştır?

A) Meyvesiz ağaca kimse taş atmaz.

B) Menfaatleri için küçülmeyen insan büyüktür.

C) Hayat ancak yaşayarak tecrübe edilir.

D) Öğrenmenin sınırlarını genellikle kendiniz koyarsınız.

3.

T.C. İNKILAP TARİHİ VE ATATÜRKÇÜLÜK

Aşağıdakilerden hangisinde Türk ordusu düşmanın silahlı kuvvetlerini kesin biçimde yok etmek ve işgal altındaki toprakları kurtarmak amacıyla harekete geçmiştir?

A) Büyük Taarruz

B) Birinci İnönü Muharebesi

C) Sakarya Meydan Muharebesi

D) İkinci İnönü Muharebesi

4.

T.C. İNKILAP TARİHİ VE ATATÜRKÇÜLÜK

Yüzyıllardır Osmanlı Devleti'nin ekonomik bağımsızlığı önünde engel oluşturan kapitülasyonların tüm sonuçlarıyla kaldırılması hangi antlaşma ile gerçekleşmiştir?

A) Sevr Antlaşması

B) Ankara Antlaşması

C) Lozan Antlaşması

D) Mudanya Ateşkes Antlaşması

5.

DİN KÜLTÜRÜ VE AHLAK BİLGİSİ

Allah'ın tabiatı yaratıp devam ettirmek ve toplum hayatını düzenlemek için koyduğu kanunlara ne denir?

A) Din

B) Sünnetullah

C) Külli İrade

D) Rızık

6.

DİN KÜLTÜRÜ VE AHLAK BİLGİSİ

Aşağıdakilerden hangisi toprak ürünlerinden verilmesi gereken zekât oranıdır?

A) 1\40


B) 1\30


C) 1\5


D) 1\10

7.

İNGİLİZCE

 Robert is
He never tells lies.

 Mike is He never
changes his mind.

 Susan is She
always backs me up when I
need her.

Which of the following words does **NOT** complete the blanks in any of the sentences above?

- A) generous B) supportive
 C) honest D) stubborn

8.

İNGİLİZCE

 I love going hang-gliding on
my holiday. It's more amusing
than the other sports.

 Skydiving is my favourite
extreme sport. I really feel
excited while doing it.

 My favourite extreme sport
is scuba diving. I do it every
summer and it's fascinating.

 I would rather go paragliding
than go canoeing. I think it's
more challenging.

According to the information above, who prefers an underwater sport?

- A) Olivia B) Daniel
 C) Lily D) Frank

9.

BEDEN EĞİTİMİ VE SPOR

Badminton da skor 10 - 10 olunca oyun kaçta biter?

A) İki fark oluncaya kadar devam

B) 15

C) 20

D) 30

10.

MÜZİK

Aşağıdakilerden hangisi uzun havanın yöresel adlarından biridir?

A) Zeybek

B) Türkü

C) Karşılama

D) Bozlak

11.

TEKNOLOJİ VE TASARI

'Aşağıdaki seçeneklerden hangisi antropometrik ölçümlerde yararlanılan bilgilerden değildir?

A) Saç uzunluğu

B) Vücut ağırlığı

C) Boy uzunluğu

D) Baş çevresi

12.

ŞİFRE

Aşağıdakilerden hangisi bu haftanın şifresidir?

A) Uçamıyorsan koş; koşamıyorsan yürü; yürüyemiyorsun emekle.

B) Rüyalarınız onlara inandıkça büyürler, ta ki bir gün sizi de peşlerine takıp gerçek olana dek.

C) Kendi kendine yaptığın şeyden daha güzeli yoktur.

D) Başarmak istiyorsan tek yapman gereken denemektir.

13.

FEN BİLİMLERİ

Aşağıda, görselde masa üzerinde durmakta olan silindir şeklinde bir saksı verilmiştir.



Masanın yere yaptığı basıncı bulabilmek için,

- I. Masanın bir ayağının yüzey alanı
- II. Masanın yüzey alanı
- III. Silindirin yüzey alanı
- IV. Masanın ağırlığı
- V. Saksının ağırlığı

büyükliklerinden hangilerini bilmemiz yeterlidir?

A) I, IV ve V

B) II, IV ve V

C) II, III, IV ve V

D) I, II, III ve IV

14.

FEN BİLİMLERİ

Verilen görsellerde bazı hayvanların bazı organları görülmektedir.



Kurdun dişleri

I



Filin ayağı

II



Ördeğin ayağı

III



Devenin ayağı

IV

Bunlardan hangileri basıncı azaltmaya örnek olarak verilebilir?

A) Yalnız I

B) I ve IV

C) II ve III

D) II, III ve IV

15.

MATEMATİK

$$\frac{4x + 2}{x - 7} = \frac{9}{2} \text{ olduğuna göre } x \text{ kaçtır?}$$

A) 59

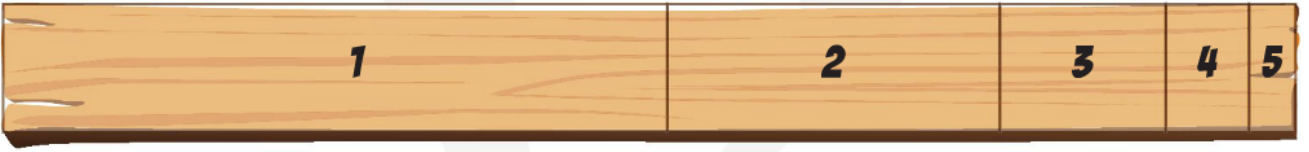
B) 67

C) 69

D) 71

16.

MATEMATİK



Yukarıdaki tahta parçası 5 parçaya bölünmüştür. Parçalarla ilgili;

- 5. parçanın 4. parçanın yarısı, 4. parçanın 3.nün yarısı, 3. parça uzunluğu 2'nin yarısı, 2. parça uzunluğu 1.nin yarısıdır.

Tahtanın uzunluğu 620 cm olduğuna göre 5. parçanın uzunluğu kaç cm'dir?

A) 60

B) 50

C) 40

D) 20