

S1. Aşağıdakilerin hangisinde karşıt anlamlı sözcükler bir arada kullanılmıştır?

- A) Ev halkı tarafından sıcak karşılanması ona huzur vermişti.
B) Önce arkasından seslendik, sonra yanına kadar gittik.
C) Dikiş kutusunun dışı, mavi kadifeyle kaplıydı.
D) Beş dönüme yakın bahçesi bir ormanı andırırdı.

S2. Aşağıdaki sözcükler alfabetik sıraya göre dizildiğinde, hangisi 3. sırada yer alır?

- A) Dişçilik B) Dijital C) Dikenli D) Dinamik

S3. "Ahmet, ablasının geldiğini haber vermek için soluk soluğa koşuyordu." cümlesinde aşağıdakilerden hangisinin cevabı yoktur?

- A) Nerede? B) Kim? C) Nasıl? D) Niçin?

S4. Aşağıdaki cümlelerin hangisinde sebep-sonuç ilişkisi vardır?

- A) Hava kararmadan dönmemiz gerekti.
B) Mutfak penceresinden endişeli gözlerle dışarıya bakıyordu.
C) Odasının duvarlarında tablolar asılıydı.
D) Çantasını unuttuğu için eve geri döndü.

S5. (1)Güneş'te saniyede 700 milyon ton hidrojen, helyuma dönüşür. (2)Yani, Güneş her saniye 5 milyon ton hafifler. (3)Güneş'in bir saniyede ürettiği enerjiyi bulmak için enerjiye dönüşen kütle, ışık hızının karesiyle çarpılır. (4)Bana göre, Güneş'teki nükleer yakıt, onun yaklaşık 3 milyar yıl daha parlamasına yetecektir.

Numaralandırılmış cümlelerden hangisi öznel bir yargıdır?

- A) 1 B) 2 C) 3 D) 4

5. SINIFLAR TÜRKÇE DENEME SORULARI

S6. Önce görev yerimi söyleyeyim() TBMM()de memurum.

Yukarıda yay ayraç ile belirtilen yerlere, sırasıyla hangi noktalama işaretleri getirilmelidir?

- A) (-) (.) B) (...) (.) C) (:) (') D) (!) (:)

S7. Aşağıdaki cümlelerden hangisinin sonuna *farklı* bir noktalama işareti konmalıdır ?

- A - Buraya daha önce gelmiş miydiniz
B - Gününüz nasıl geçti
C - Salıncağın ipini bağladım mı işlem tamamdır
D - Marketten ekmekten başka ne alınacaktı

S8. "Kömür saklanan veya konulan yer" anlamına gelen bir kelime türetmek için "kömür" kelimesine aşağıdakilerden hangisi eklenmelidir?

- A) -cü B) -lük C) -lü D) -süz

S9. Aşağıdaki eklerin hangisi "söz" kökünün anlamını değiştirmez?

- A) -ümden B) -cüden C) -lükten D) -lükçüden

S10. Kök, bir sözcüğün parçalanamayan, anlamlı en küçük parçasıdır. Diğer bir ifadeyle sözcükte bulunan tüm yapım ve çekim ekleri çıkarıldıktan sonra geriye kalan anlamlı kısım, o sözcüğün kökü sayılmaktadır. Bir sözcüğün kökü, o sözcüğün tamamı ile anlam bakımından ilişkili olmak zorundadır.

Buna göre aşağıdakilerden hangisinde sözcüğün kökü yanlış gösterilmiştir?

- A) Nasrettin Hoca bir gün yabancı bir köy-de misafir olur.
B) Davranışlarındaki incelik kimsenin göz-ünden kaçmadı.
C) Kütüphane yıllar önce çıkan bir yan-gında hasar görmüş.
D) İhtiyar bal-ıkçı gururla yürüyordu.

5.SINIF SOSYAL BİLGİLER

1. Aşağıdakilerden hangisi yaşadığımız toplumda sahip olduğumuz roller arasında yer almaz?

- A) Öğrenci olmak
B) Uzun boylu olmak
C) Üye olmak
D) Torun olmak

2. Dünyanın birçok yerinde çocuklar salgın hastalıklar ve kötü beslenme nedeniyle hayatını kaybetmektedir. Yukarıda verilen bilgiye göre çocuklar hangi haklarını kullanamamışlardır?

- A) Yeterli beslenme-sağlık hizmetlerinden yararlanma
B) Oyun oynama-yeterli beslenme
C) Sağlık hizmetlerinden yararlanma-eğitim alma
D) Düşüncelerini söyleme-oyun oynama

3. Sümerler Ziggurat adı verilen çok katlı tapınaklar inşa etmişler. Bu yapıları aynı zamanda tahıl ürünleri için depo ve gök cisimlerini gözlemlemek için kullanmışlardır.

Buna göre Sümerlerle ilgili aşağıdaki yargılardan hangisine ulaşamaz?

- A) Tarımla uğraşmışlardır.
B) Bilimsel çalışmalar yapmışlardır.
C) Mimari eserler inşa etmişlerdir.
D) Komşularıyla barış içinde yaşamışlardır.

4. Anadolu'nun eski çağlardan beri yerleşim alanı olarak tercih edilmesinde aşağıdakilerden hangisi etkili olmamıştır?

- A) İklim koşullarının elverişli olması
B) Verimli topraklara sahip olması
C) Siyasi baskıların fazla olması
D) Su ve doğal kaynakların bol olması

5. Türkiye fiziki haritasında Marmara Bölgesi yeşil renk ile gösterilirken, Doğu Anadolu Bölgesi kahverengi renk ile gösterilmiştir.

Verilen bilgiye göre iki bölgenin farklı renklerle gösterilmesinin sebebi hangisidir?

- A) Yüz ölçümleri
B) Ekvatora uzaklıkları
C) Su kaynakları
D) Yükseltileri

6.

- Bitki örtüsü bozkırdır.
 Yazlar sıcak ve kurak, kışlar soğuk ve kar yağışlı geçer.
 En fazla yağışı ilkbahar mevsiminde alır.
 Tahıl tarımı yaygın olarak yapılır.

Özellikleri verilen iklim tipi aşağıdakilerden hangisidir?

- A) Kutup iklimi
B) Karasal iklim
C) Karadeniz iklimi
D) Akdeniz iklimi

1.

Hi! My name is Garry.
I'm eleven years old. I'm from
the USA. I speak English and French.



What DOES NOT Garry tell about himself?

- A) Languages
- B) Nationality
- C) Hobbies
- D) Age

2. **Jack** : Doctor, my back hurts a lot. What should I do?

Doctor : You - - - -.

Which of the following completes the text?

- A) should have a rest
- B) shouldn't drink cold water
- C) should carry heavy things
- D) shouldn't eat chocolate

3. In Mr. Susanne's class, students prepare posters about their favourite lessons.



- Leo** : I love science, but I dislike music and geography.
Tim : Music, P.E. and maths are my favourite.
Sue : I enjoy music, science and P.E.
Neil : I like geography and science, but I dislike music.

Who prepares the poster above?

- A) Leo B) Tim **C) Sue** D) Neil
4. Lisa is an English teacher in London. On weekdays, she always gets up at about 7:15. She has a shower and then she has breakfast with her husband and daughter. After breakfast, she goes to school by bicycle at 8:30. At about 1:30 p.m., she usually has lunch. She finishes work at five p.m. She has dinner at about 7 p.m. and then she has a cup of coffee. In the evening, she watches television. She likes listening to music. She goes to bed at about 11:30 p.m.

The text is about Lisa's - - - .

- A) school life
B) daily routine
 C) favourite subject
 D) weekend activities

5.

I am John. I like camping and going fishing, but I don't like hiking.



Which of the following picture describes John's dislike?

A)



B)



C)



D)



6.



Which of the following does NOT match with the pictures above?

- A) I have a backache. I need a pill.
- B) My leg hurts a lot. It's broken.
- C) I have the measles. I cannot go to school.
- D) I need a warm drink. My throat hurts.

1

Bin aydan daha hayırlı olan ve Kur'an'ın indirildiği gece aşağıdakilerden hangisidir?

A) Kadir Gecesi

B) Mevlit Kandili

C) Berat Gecesi

D) Miraç Gecesi

2.

Aşağıdakilerden hangisi Ramazan ayında yapılmaz?

A) Minarelerin arasına mahya asmak

B) Fitre vermek

C) Teravih namazı kılmak

D) Hacca gitmek

3.

Aşağıdakilerden hangisi oruçluya yakışmayan davranışlardan biridir?

A) Güler yüzlü olmak

B) Yalan söylemek

C) Selam vermek

D) Tatlı dilli olmak

4.

I. İçinde Kadir Gecesi vardır.

II. Ay boyunca oruç tutmak farzdır.

III. Sonunda kurban keserek şükrümüzü yerine getirmiş oluruz.

IV. Fitre bu ayda verilen bir sadakadır.

Yukarıda verilenlerden hangisi ramazan ayı ile ilgili değildir?

A) I

B) II

C) III

D) IV

5.

Birden fazla kişinin bir araya gelerek karşılıklı olarak Kur'an-ı Kerim'i okumalarıdır. Birisi yüksek sesle Kur'an-ı Kerim okurken diğerleri de onu dinlerler. Okunan bölümleri takip ederler.

Yukarıda metinde aşağıdaki kavramlardan hangisi hakkında bilgi verilmektedir?

A) Mukabele

B) İftar

C) İmsak

D) Teravih

6.

Dua ile ilgili verilen bilgilerden hangisi yanlıştır?

A) Dua Yüce Allah'tan istekte bulunmaktır.

B) Sevinçleri ve üzüntüleri Yüce Allah ile paylaşmaktır.

C) Yüce Allah'ın verdiği nimetlere şükretmektir.

D) Dua sadece namazlardan sonra edilir.

5. SINIF SORULARI

1)



Yukarıdaki ürünleri alacak olan bir kişi fiyatları en yakın yüzlüğe yuvarlayıp toplarsa A TL, en yakın onluğa yuvarlayıp toplarsa B TL ödeyeceğini tahminini olarak hesaplamıştır.

Buna göre, B – A ifadesinin değeri kaçtır?

- A) 20 B) 30 C) 40 D) 50





CEVAP: A

2)



64 sayısını bir doğal sayının karesi veya küpü biçiminde söyler misiniz?

Öğretmenin sorduğu soruya aşağıdaki öğrencilerden hangisi doğru yanıt vermiştir?

- A)  5^3 B)  4^2
C)  8^2 D)  6^3

CEVAP: C

3)

$$9 \times (57 - \blacksquare) = 297$$

olduğuna göre \blacksquare sembolünün yerine gelecek sayı kaçtır?

- A) 22 B) 24 C) 28 D) 34

CEVAP: B

4)

Ürün	Fiyatı (₺)
Televizyon	1980
Buzdolabı	1700
Klima	1300

Yukarıdaki tabloda televizyon, buzdolabı ve klimanın adet fiyatları gösterilmiştir.

Buna göre, 3 televizyon, 2 buzdolabı ve 4 klima satıldığında bu satıştan kaç TL elde edilir?

- A) 15 640 B) 14 600
C) 14 540 D) 14 440

CEVAP: C

5)

$$\frac{25}{40} = \frac{5}{a} \text{ ve } \frac{4}{a} = \frac{b}{2}$$

Yukarıdaki eşitliklere göre a + b ifadesinin değeri kaçtır?

- A) 8 B) 9 C) 10 D) 11

CEVAP: B

6)



Yukarıdaki kartların üzerinde yazılı kesirler büyükten küçüğe doğru sıralanırsa baştan 3. kesir hangisi olur?

- A) $\frac{3}{20}$ B) $\frac{3}{14}$
 C) $\frac{3}{10}$ D) $\frac{3}{16}$

CEVAP:D

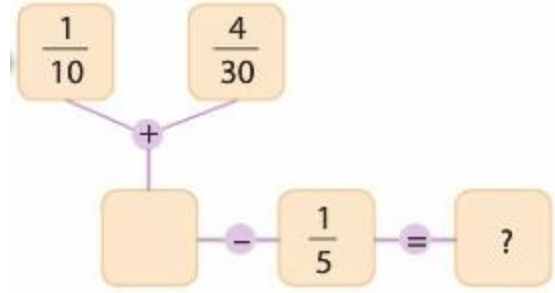
7) Müge 200 sayfalık bir kitabın $\frac{17}{40}$ 'sini okumuştur.

Buna göre Müge, kitabın kaç sayfasını okumuştur?

- A) 75 B) 80 C) 85 D) 90

CEVAP:C

8)



Yukarıdaki şemada “?” yerine gelecek kesir aşağıdakilerden hangisidir?

- A) $\frac{1}{30}$ B) $\frac{1}{15}$ C) $\frac{1}{10}$ D) $\frac{1}{6}$

CEVAP:A

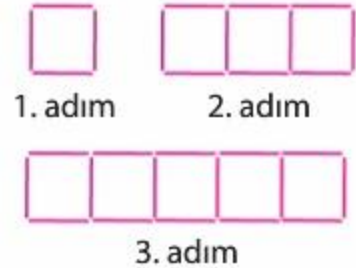
9) Bir miktar paranın $\frac{1}{3}$ 'ünü Eren ve $\frac{5}{9}$ 'ünü Onur harcamıştır.

Geriye 12 TL kaldığına göre, harcanmadan önceki para miktarı kaç TL'dir?

- A) 90 B) 108 C) 117 D) 126

CEVAP:B

10)



Yukarıdaki şekil örüntüsünün 1. adımında 1 tane kare ve 4 tane çubuk 2. adımında 3 tane kare ve 10 tane çubuk, 3. adımında 5 tane kare ve 16 tane çubuk vardır.

Buna göre, 5. adımdaki çubuk sayısı kare sayısından kaç fazla olur?

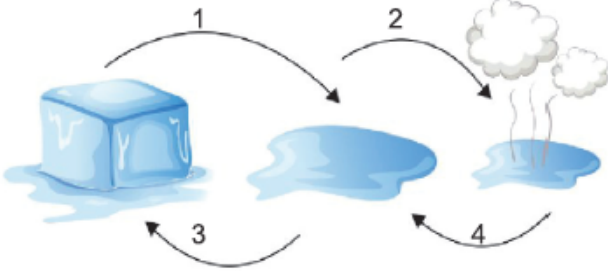
- A) 22 B) 21 C) 20 D) 19

CEVAP:D

5. SINIF FEN BİLİMLERİ DENEME SINAVI SORULARI

1.

Buz parçasının sıcaklık artışı ile geçirdiği hal değişimleri numaralandırılarak verilmiştir.

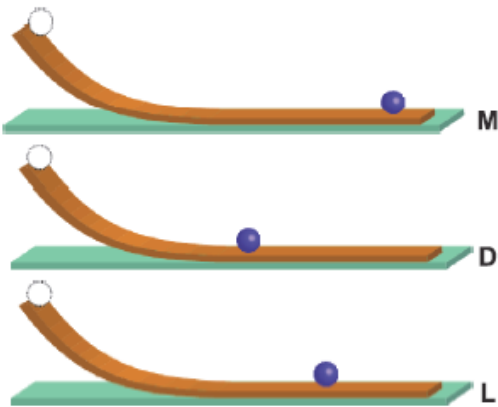


Buna göre numaralarla verilen hal değişimleri hangi seçenekte doğru verilmiştir?

	1	2	3	4
A)	Erime	Buharlaştırma	Yoğuşma	Donma
B)	Yoğuşma	Buharlaştırma	Erime	Donma
C)	Erime	Buharlaştırma	Donma	Yoğuşma
D)	Donma	Erime	Yoğuşma	Buharlaştırma

2.

Görselde eşit yükseklikten bırakılan özdeş cisimlerin M, D, L yüzeylerinde durduğu noktalar verilmiştir.

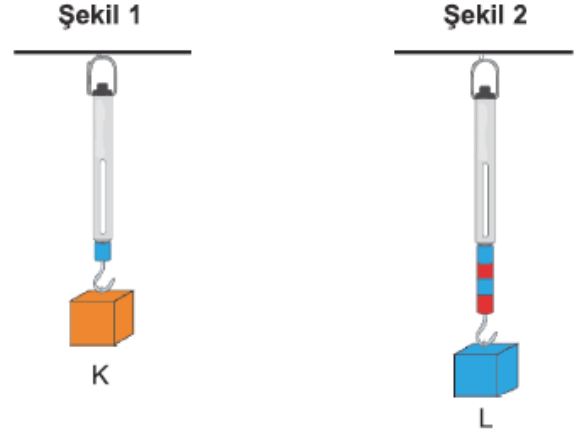


Cisimlerin bırakıldıkları yüzeyler aşağıdakilerden hangisi olabilir?

	M	D	L
A)	Buz	Beton	Çakıl
B)	Beton	Çakıl	Buz
C)	Buz	Çakıl	Beton
D)	Çakıl	Buz	Beton

3.

Özdeş dinamometrelere K ve L cisimleri şekil 1 ve şekil 2'deki gibi asılmıştır.



Şekil 1'deki dinamometre 3 N'u gösterdiğine göre Şekil 2'deki L cisminin dinamometreye uyguladığı kuvvet kaç N'dur?

- A) 6
B) 9
C) 12
D) 15

4.

Gamze, yerde fark etmediği meyve suyu kutusunun üzerine basmış ve şekildeki hale geldiğini görmüştür.



Gamze'nin yaşadığı durumla ilgili olarak;

- I. Gamze meyve suyu kutusuna kuvvet uygulamıştır.
II. Uygulanan kuvvet sonucu kutunun şekli değişmiştir.
III. Kutunun şeklinin değişmesinde kuvvetin etkisi yoktur.

Yorumlarından hangileri doğrudur?

- A) Yalnız I
B) I ve II
C) II ve III
D) I, II ve III

5.

Öğrenciler sürüngenler ile ilgili bazı bilgiler vermişlerdir.



Sürüngenler pullu ve sert bir deriye sahiptir.



Solungaç solunumu yaptıkları için suda yaşayabilirler.



Yılan gibi omurgasız türleride vardır.

Buna göre öğrencilerin verdiği bilgilerden hangileri doğrudur?

- A) Yalnız Mete B) Mete ve Ata
C) Ata ve Duru D) Mete, ve Duru

6.

Görseldeki canlı ile ilgili;



- I. Güneş ışığını kullanarak kendi besinini üretme özelliği ile mantarlardan ayrılır.
II. Kök, gövde yaprak ve çiçek olmak üzere dört bölümden oluşur.
III. Tohum ve meyve oluşturur.

verilen ifadelerden hangileri doğrudur?

- A) Yalnız I B) Yalnız III
C) I ve III D) I, II ve III

7.

Dereden alınan bir su örneği mikroskopta incelendiğinde aşağıdaki canlılar gözlenmiştir.

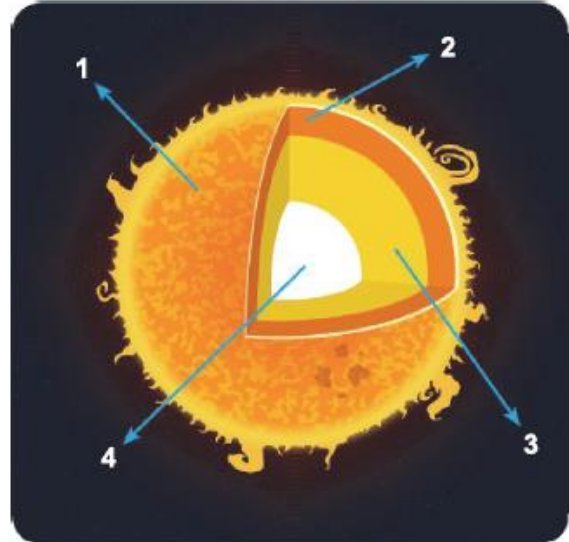


Gözlemlenen bu canlılarla ilgili hangi seçenekte verilen ifade yanlıştır?

- A) Mikroskopik canlılardır.
B) Çoğalamazlar.
C) Gözle görülmezler.
D) Solunum yaparlar.

8.

Görselde Güneş'in katmanları numaralandırılmıştır.



Güneş'in numaralı kısımlarından hangisinin sıcaklığı diğer kısımların sıcaklığından daha fazladır?

- A) 1 B) 2
C) 3 D) 4

9.

Görselde Güneş, Dünya ve Ay'ın birbirlerine göre konumları yer almaktadır.




Verilen görseli inceleyen bir öğrencinin seçeneklerde verilen ifadelerinden hangisi yanlıştır?

- A) Ay, Dünya ve Güneş'ten küçüktür.
- B) Ay, Dünya'ya Güneş'ten daha yakındır.
- C) Ay'ın şekli ile Dünya'nın şekli küreseldir.
- D) Ay, Güneş gibi doğal bir ışık kaynağıdır.

10.

Aşağıda Ay'ın bazı evreleri karışık olarak verilmiştir.



Verilen evrelerin ana evre ve ara evre olarak sınıflandırılması hangi seçenekteki gibidir?

	ANA EVRE	ARA EVRE
A)	1, 4	2, 3
B)	3, 4	1, 2
C)	1, 2	3, 4
D)	2, 4	1, 3