

BİLGİ YARIŞMASI 2. HAFTA (25.12.2020)

1.

TÜRKÇE

Aşağıdaki altı çizili sözcüklerden hangisi **farklı** türde bir zarftır?

- A) **En** güzel çayı yapmak için su değil sevgi gereklidir.
B) Bağlantı kurmak için **harıl harıl** çalışıyor.
C) Buradan güzel hatıralarla **gülümseyerek** gitti.
D) Masadaki kahvaltıyı **bir çırpıda** bitiriverdi.

2.

TÜRKÇE

“Daha” sözcüğü hangisinde miktar zarfı olarak **kullanılmamıştır**?

- A) Daha iyi günler önümüzde bizi bekliyor.
B) Daha tatlı yemek yapmak için tavayı önceden ısıt.
C) **Daha iş yerinden eve gelmedi.**
D) Daha hoş bir koku yakalamak için bitkileri de denemeli.

3.

FEN BİLİMLERİ

- I. Uzaya yayılan roket parçaları
II. İşlevini yitiren yapay uydular
III. Kuyruklu yıldızlardan kopan parçalar
IV. Doğal uydu

Yukarıdakilerden hangisi ya da hangileri uzay kirliliğine **neden olmaz**?

- A) Yalnız I B) I ve III C) **III ve IV** D) Yalnız IV

4.

FEN BİLİMLERİ

Aşağıda verilenlerden hangisi Dünya'nın uzaydaki yerini doğru bir şekilde ifade etmektedir?

- A) Andromeda gökadası- Güneş sistemi- Güneş'e yakınlığına göre 3.gezegen
B) **Samanyolu gökadası-Güneş sistemi-Güneş'e yakınlığına göre 3.gezegen**
C) Andromeda gökadası-Halley- Güneş'e yakınlığına göre 2.gezegen
D) Samanyolu gökadası- Halley- Güneş'e yakınlığına göre 4.gezegen

5.

DİN KÜLTÜRÜ VE AHLAK BİLGİSİ

Aşağıdakilerden hangisi Hac'ın farzlarından **değildir**?

- A) Şeytan taşlamak** B) İhram'a girmek C) Kabe'yi tavaf etmek D) Arafat'ta vakfe

6.

DİN KÜLTÜRÜ VE AHLAK BİLGİSİ


"Kendi yaratılışını unutarak bize karşı misal getirmeye kalkışıyor ve: 'Şu çürümüş kemikleri kim diriltecek?' diyor. De ki: Onları ilk defa yaratan diriltecektir. O, her türlü yaratmayı bilendir."
(Yasin suresi 78-79.ayet)

Yukarıdaki ayette ahiret hayatının hangi aşaması üzerinde **durulmuştur**?

- A) Ba's** B) Berzah C) Kıyamet D) Mahşer

7.

İNGİLİZCE

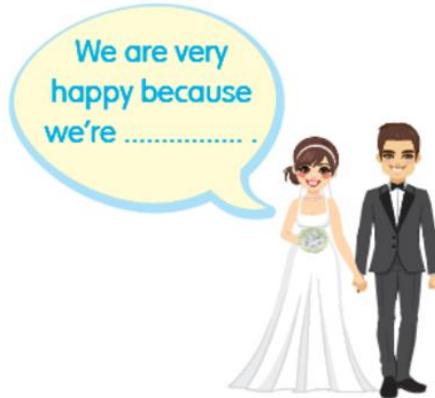


Albert Einstein was born in Germany. He was a great scientist. He the theory of relativity.

- A) invented** B) fulfilled
C) discovered D) established

8.

İNGİLİZCE



- A) getting married** B) raising
C) graduating D) growing up

9.

SOSYAL BİLGİLER

Sanayi İnkılabı ilk önce hangi ülkede başlamıştır?

A) İngiltere

B) İtalya

C) Türkiye

D) Fransa

10.

SOSYAL BİLGİLER

Krallıkların ve çok uluslu imparatorlukların yıkılarak ulus egemenliğine dayalı yönetimlerin kurulmasında etkili olan Milliyetçilik akımı aşağıdakilerden hangisinin sonucunda dünyaya yayılmaya başlamıştır?

A) Sanayi İnkılabı

B) Fransız ihtilali

C) Rönesans hareketleri

D) Reform hareketleri

11.

BEDEN EĞİTİMİ

Bir voleybol maçı toplam kaç set oynanır?

A) 3

B) 5

C) 2

D) 4

12.

MÜZİK

“Orta kuvvetli” gürlük teriminin uluslararası müzik dilindeki karşılığı nedir?

A) Allegro

B) Forte

C) Mezzoforte

D) Adagio

13.

TEKNOLOJİ VE TASARIM

Aşağıdakilerden hangisi “TASARIM SÜRECİ” nin ilk basamağıdır?

A) Araştırma (çözüm bulma)

B) Değerlendirme

C) Problem Tanımlama

D) Tanıtım ve Pazarlama

14.

ŞİFRE

Aşağıdakilerden hangisi bu haftanın şifresidir?

- A) Ya olduğun gibi görün ya da görüldüğün gibi ol
- B) Başkasının kusurunu örtmede gece gibi ol
- C) Hoşgörülülükte deniz gibi ol.
- D) Hiddet ve asabiyette ölü gibi ol.

15.

MATEMATİK

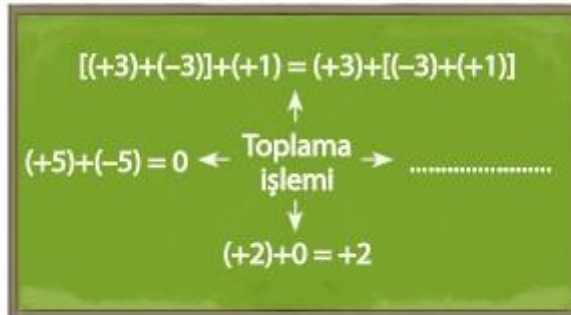
a ve b birer negatif tam sayıdır. $a \cdot b = 20$ olduğuna göre $a + b$ ifadesinin en büyük değeri kaçtır?

- A) -9
- B) 9
- C) -21
- D) 21

16.

MATEMATİK

Aşağıdaki sınıf tahtasına toplama işleminin değişme, birleşme, ters eleman ve etkisiz eleman özelliklerine ait birer örnek yazılacaktır.



Buna göre boş bırakılan yere aşağıdaki örneklerden hangisi yazılmalıdır?

- A) $(-5) + (+5) = (0)$
- B) $(-5) + (+10) = (+5)$
- C) $(-10) + (+5) = (+5) + (-10)$
- D) $(-10) + 0 = (-10)$